



حدد الكلمة التي تملأ الفراغ لتعطي علاقة مشابهة لما في داخل الصندوق الأيمن.

1	نقود	حصالة	:	؟	بيضة
أ	ديك	ب	ذباية		
ج	صوص	د	سحلية		
الحل: صوص					

2	صوف	خروف	:	لحاء	؟
أ	ورق	ب	عشب		
ج	ورود	د	شجرة		
الحل: شجرة					

3	تدريب	إتقان	:	زلزال	؟
أ	بركان	ب	دمار		
ج	فيضان	د	إعصار		
الحل: دمار					



4	مريض	دواء	:	؟	تقوية
أ	ضعيف	ب	قوي		
ج	شاب	د	تطعيم		
الحل: ضعيف					

العبارات الآتية تحوي مقدمة غير واقعية تحتها خط اختر الإجابة التي تكمل العبارات منطقياً

5	إذا كانت <u>السبحة فانوساً</u> ، وكان الحذاء يوضع على الرف، فإن السبحة توضع في ...				
أ	اليدي	ب	الشمعة		
ج	السقف	د	الأرض		
الحل: السقف					

6	إذا كانت <u>البطة من الكواكب</u> ، والسمك يعيش في الماء، فإن البطة ستكون في ....				
أ	البركة	ب	السماء		
ج	الأرض	د	النجوم		
الحل: السماء					



٧	إذا كانت <u>الورقة أسداً</u> ، والشمس تشرق في الصباح، فإن صوت الورقة ...		
أ	حفيف	ب	صرير
ج	خرير	د	زئير
الحل: زئير			

المطلوب تحديد الاختيار الذي ترتبط فيه الكلمتان بنفس علاقة الكلمتين في رأس السؤال:

املاً الفراغ بكلمة تعطي علاقة مشابهة لما فوق الخط :

٨	إطار: صورة		
أ	سياج : منزل	ب	كتاب : رف
ج	رأس : قبعة	د	ألوان: ريشة
الحل :سياج : منزل			

٩	سُم : وفاة		
أ	نجاح : رسوب	ب	فشل : إخفاق
ج	دواء : مرض	د	جد : نجاح
الحل :جد : نجاح			



١٠	إصبع : ظفر	
أ	تفاح : فاكهة	ب
ج	شاب : طفل	د
الحل : كلمة : حرف		

املاً الفراغ بكلمة تعطي علاقة مشابهة لما فوق الخط :

١١	<u>الكهرباء - المصباح - الإضاءة</u> الوقود - السيارة - .....	
أ	الإطارات	ب
ج	الحركة	د
الحل : الحركة		

١٢	<u>ضوضاء - ضجيج - صخب</u> كرم - جود - .....	
أ	إسراف	ب
ج	بُخل	د
الحل : سخاء		

في السؤال الآتي كلمة يتبعها أربعة أزواج من الكلمات، المطلوب اختيار الإجابة التي تتناسب معها :

١٣	أسد		
أ	ثور - حمار	ب	نمر - سنجاب
ج	ذئب - فهد	د	ضبع - غزال
الحل: ذئب - فهد			

١٤	إنترنت		
أ	محاضرة - مجلة	ب	كراسة - كتاب
ج	سيارة - قطار	د	تلفاز - راديو
الحل: تلفاز - راديو			

١٥	كم عدد الخطوط في الشكل المجاور؟		
أ	٧	ب	٨
ج	٩	د	١٠
الحل: ٩			

	<p>اختر الشكل المناسب للشكل المجاور؟</p>	<p>١٦</p>	
	<p>ب</p>		<p>أ</p>
	<p>د</p>		<p>ج</p>

	<p>إذا دار الترس (١) في الاتجاه الموضح، في أي اتجاه سيدور الترس رقم (٤)؟</p>	<p>١٧</p>	
<p>عكس (١)</p>	<p>ب</p>	<p>مثل (١)</p>	<p>أ</p>
<p>عكس (٣)</p>	<p>د</p>	<p>مثل (٢)</p>	<p>ج</p>
<p>الحل: عكس (١)</p>			

	<p>١٨ في الشكل المجاور؛ أيهما أكبر كثافة: قطعة الفلين أو الكرة الحديدية؟</p>		
<p>لا يمكن معرفة ذلك</p>	<p>ب</p>	<p>قطعة الفلين</p>	<p>أ</p>
<p>الكرة الحديدية</p>	<p>د</p>	<p>متساويان</p>	<p>ج</p>
<p>الحل: الكرة الحديدية</p>			

	<p>١٩ كم عدد الخطوط في الشكل المجاور؟</p>		
<p>٤</p>	<p>ب</p>	<p>٣</p>	<p>أ</p>
<p>٦</p>	<p>د</p>	<p>٥</p>	<p>ج</p>
<p>الحل: ٤</p>			



٢٠	إذا كان لديك ٢٦ حبلاً قصيراً ، كم حبلاً نحتاج لعمل حبل طويل؟		
أ	١٣	ب	٢٠
ج	٢٥	د	٢٦
الحل: ٢٦:			

٢١	كيس به مجموعة كرات بألوان مختلفة هي: حمراء - حمراء - بيضاء - زرقاء - زرقاء - خضراء، وسحب منه كرة، ما لون الكرة رقم (١٩)؟		
أ	حمراء	ب	بيضاء
ج	زرقاء	د	خضراء
الحل: حمراء			

الأسئلة الآتية تتضمن أربع كلمات يجمع ثلاثاً منها رابط معين، واحدة مختلفة عنها، فإن الكلمات هي؟

٢٢	اختر الكلمة المختلفة فما يلي:		
أ	مُهر	ب	شبل
ج	جمل	د	جرو
الحل: جمل			



الأسئلة الآتية تتضمن أربع كلمات يجمع ثلاثاً منها رابط معين، واحدة مختلفة عنها، فأي الكلمات هي؟

٢٣	اختر الكلمة المختلفة فما يلي:		
أ	ب	فراولة	توت
ج	د	كرز	موز
الحل: موز			

٢٤	إذا كان الحليب أفضل من الحلاوة، والحلاوة أقل لذادة من البسكوت وأفضل من البيبسي، فمن الأقل تفضيلاً؟		
أ	ب	الحليب	الحلاوة
ج	د	البسكوت	البيبسي
الحل: البيبسي			

في بداية كل سؤال كلمتان ترتبطان بعلاقة معينة، تتبعهما أربعة أزواج من الكلمات، زوج منها ترتبط فيه الكلمتان بعلاقة مشابهة للعلاقة بين الكلمتين اللتين في بداية السؤال. اختر منها للإجابة الصحيحة

٢٥	هلال : بدر		
أ	ب	دودة : جرادة	شمس : قمر
ج	د	غصن : ورقة	بذرة : شجرة
الحل: بذرة : شجرة			



شمس : إشراق	٢٦
حيوان : طير	أ
لسان : تذوق	ب
قمر : سماء	ج
طريق : سيارة	د
الحل :لسان : تذوق	

أربعة أشخاص، الأول يغني أحسن من الثاني، والثاني يغني أسوء من الثالث وأحسن من الرابع أيهم أسوء صوتاً؟	٢٧
الأول	أ
الثاني	ب
الرابع	ج
الثالث	د
الحل :الرابع	

إذا كان سالم أكبر من فارس، لكنه أصغر من سيف، وفهد أصغر من الجميع. فمن أكبرهم؟	٢٨
سالم	أ
فارس	ب
فهد	ج
سيف	د
الحل :سيف	

٢٩	تسابق أربعة أصدقاء (سالم ، خالد ، سعيد ، يوسف) في قطع المسافة بين المدرسة والمنزل، بحيث وصل سالم قبل خالد وبعد سعيد، وكان يوسف أول الواصلين، الترتيب الصحيح لوصولهم إلى المنزل هو :
أ	يوسف ، خالد ، سالم ، سعيد.
ب	يوسف ، سعيد ، خالد ، سالم.
ج	يوسف ، سعيد ، سالم ، خالد.
د	يوسف ، خالد ، سعيد ، سالم.
الحل :يوسف ، سعيد ، سالم ، خالد.	

٣٠	أدخل إلى كأس ماء في درجة حرارة ١٠٠ درجة مئوية أربعة قضبان : قضيب من الخشب وقضيب من الحديد وقضيب من البلاستيك وقضيب من الزجاج أي قضيب سيكون الأكثر سخونة بعد نصف دقيقة ؟
أ	الخشب
ب	الزجاج
ج	البلاستيك
د	الحديد
الحل :الحديد	

٣١ اقرأ خط الرقعة التالي ثم أجب

قال الله تعالى:

(وما أوتيتم من العلم إلا قليلاً)

يفهم من الآية الكريمة أنه:

أ	لم يعرف الناس من العلم إلا مقدار قليل .	ب	كلما كبرنا يزداد علمنا
ج	العلم قليل والعمل كثير	د	من يتعلم كثيراً يحبه الله
الحل: لم يعرف الناس من العلم إلا مقدار قليل.			

٣٢ في اختبار الرياضيات كانت هند متفوقة على حصة، وكانت سلوى متفوقة على سعاد، في حين أن حصة كانت متفوقة على سلوى في النتيجة فمن المتفوقة؟

أ	هند	ب	حصة
ج	سلوى	د	سعاد
الحل: هند			

٣٣ إذا كان: عبد الله أطول من محمد ومحمد أقصر من خالد وأطول من محمود، فأبي الأربعة أقصر؟

أ	عبد الله	ب	محمد
ج	خالد	د	محمود
الحل: محمود			

			<p>٣٤ إذا تم تسخين الماء في الأوعية الثلاثة لمدة خمس دقائق، فأي وعاء سيكون أعلى درجة حرارة؟</p>
B	ب	A	أ
لا يمكن معرفة ذلك	د	C	ج
الحل: A:			

<p>٣٥ أكمل النمط التالي: ٠، ١، ٤، ٩، ١٦، ..... .</p>			
٢٣	ب	٢١	أ
٢٦	د	٢٥	ج
الحل: ٢٥:			

<p>٣٦ أوجد قيمة س في النمط التالي: ٦، س، ١٦، ٢١، ٢٦، ٣١</p>			
٩	ب	٨	أ
١١	د	١٠	ج
الحل: ١١:			

أوجد الحد التالي في النمط : ٠ ، ١ ، ٣ ، ٧ ، ١٥ ، ٣١ ، ..... ٣٧		
أ	٣٢	ب
ج	٦٣	د
الحل : ٦٣		

أوجد الحد التالي في النمط: ٢٢ ، ١٤ ، ٨ ، ٤ ، ..... ٣٨		
أ	٢-	ب
ج	صفر	د
الحل : ٢		

٣٩ اقرأ خط الرقعة التالي ثم أجب		
تعلم ثم تكلم		
نفهم من الجملة السابقة أن:		
أ	الكلام يسبق التعلم	ب
ج	من أكثر كلامه أكثر خطأه	د
الحل : تعلم أولاً معنى ما تقول، ثم تكلم كيف تشاء		

		<p>٤٠ قام نايف بتصنيف بعض الأغراض في المنزل إلى مجموعتين على أي أساس اعتمد نايف في تصنيفه:</p>
أ	كائنات حية وغير حية	ب
ج	فلز ولا فلز	د
<p>الثقل وخفيف</p> <p>أكثر استخدامًا وأقل استخدامًا</p>		
<p>الحل: فلز ولا فلز</p>		

		<p>٤١ أربعة أشياء تم وضعهم على مسافة واحدة من نفس المغناطيس، أيهم أسهل انجذابا للمغناطيس؟</p>
أ	٣ جرام من المسامير	ب
ج	٢ جرام من القطع المعدنية	د
<p>٢ جرام برادة حديد</p> <p>٢ جرام قطعة الومنيوم</p>		
<p>الحل: ٢ جرام برادة حديد</p>		

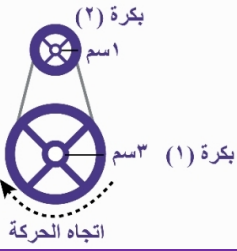
		<p>٤٢</p> <p>في الشكل المجاور: مجموعة من الأزرار مثبتة بواسطة: قطع من الشمع، أي جسم يقع منه الزرار أولاً؟</p>	
المسطرة	ب	الجميع في نفس الوقت	أ
الملعقة	د	القلم	ج
الحل: الملعقة			

		<p>٤٣</p> <p>ما رقم المصباح الذي يؤدي تعطله إلى إطفاء كل المصابيح في الدائرة المبينة في الشكل الآتي؟</p>	
٢	ب	١	أ
٤	د	٣	ج
الحل: ٤			




٤٤	مر رجل بجانب بوصلة فتحرك مؤشرها، والسبب في ذلك أن الرجل:	
أ	اتجه نحو الجنوب	ب
ج	يحمل قطعة مغناطيس	د
الحل: يحمل قطعة مغناطيس		

٤٥	في الشكل المجاور، إذا تحركت البكرة (1) دورة واحدة باتجاه عقارب الساعة فإن البكرة (٢) ستدور	
أ	دورة واحدة مع عقارب الساعة	ب
ج	ثلاث دورات مع عقارب الساعة	د
الحل: ثلاث دورات مع عقارب الساعة		



٤٦	إذا حصل محمد على درجة أكبر من فهد الذي حصل علي درجة أكبر من أحمد وأقل من خالد، فإن أدناهم درجة هو:	
أ	محمد	ب
ج	خالد	د
الحل: أحمد		

<p>القضيب (ب)</p> <p>القضيب (أ)</p> 	<p>٤٧ في الشكل المجاور، قضيب معدني (أ) متصل بقضيب معدني آخر (ب) ملصق به قطع معدنية خفيفة (١، ٢، ٣، ٤) بواسطة الشمع فإذا سخنا القضيب (أ)، فأَي القطع المعدنية تسقط أولاً؟</p>		
	أ	١ و ٢	ب
ج	٢ و ٣	د	١ و ٤
الحل: ٢ و ٣			

٤٨ العلاقة بين ريشة: رسم، مثل العلاقة بين:			
أ	كتاب: ورقة	ب	قياس: طول
ج	منظار: تكبير	د	ماء: كاس
الحل: منظار: تكبير			

٤٩ تنزهت سارة في أحد البساتين، وجدت تفاعًا وبرتقالًا و <u>عنبًا</u> و <u>أساي</u> ، فإن « <u>أساي</u> » من:			
أ	الحيوانات	ب	الخضراوات
ج	الفاكهة	د	غاز سام
الحل: الفاكهة			

٥٠	جنين، رضيع ، طفل ، صبي .....		
أ	كهل	ب	شاب
ج	شيخ	د	فتاة
الحل : شاب			

٥١	حدد الشكل المناسب ليكون مكان علامة الاستفهام		
أ	↑↑↑↓	ب	↓↑↑↑
ج	↑↑↑↑	د	↓↓↓↓
↓↑↑↑			



## حدد الاختيار الذي يكمل معنى الجملة إكمالاً صحيحاً

المكتبة بالنسبة للقراءة مثل النادي بالنسبة لـ .....	٥٢		
المذاكرة	ب	الكلام	أ
الفهم	د	الرياضة	ج
الحل: الرياضة			

ذهب أحمد الزيارة خالد، وأحضر له هدية قيمة، وعندما فتحها خالد وجد فيها: شماعات، و <u>ثروانا</u> ، ومشلحاً، وعليه فإن <u>الثروان</u> من.....	٥٣		
الأجهزة	ب	الملابس	أ
الحلويات	د	المشروبات	ج
الحل: الملابس			

الاسم الذي يُطلق على جماعة الطيور:	٥٤		
فريق	ب	قطيع	أ
سرب	د	أفراخ	ج
الحل: سرب			



٥٥	الشبل بالنسبة للأسد مثل الجرو بالنسبة ل.....		
أ	الخروف	ب	الكلب
ج	الحمار	د	النمر
الحل: الكلب			

٥٦	ما العدد التالي في النمط ٢، ٤، ٨، ١٦، ٣٢، ٦٤ .. ؟		
أ	١٢٨	ب	١٠٠
ج	٩٠	د	٧٦
الحل: ١٢٨			

٥٧	عدد صحيح إذا أضيف إليه نصفه وربعه أصبح الناتج ٢١، فإن العدد هو:		
أ	٢٤	ب	١٦
ج	١٢	د	٨
الحل: ١٢			



حدد الكلمة التي تملأ الفراغ لتعطي علاقة مشابهة لما في داخل الصندوق الأيمن


٥٨	صورة	إطار	:	بيت	؟
أ	جدار	ب	سور		
ج	باب	د	سقف		
الحل: سور					

٥٩	بنج	طبيب	:	صافرة	؟
أ	خطا	ب	مباراة		
ج	لاعب	د	حكم		
الحل: حكم					

	<p>٦٠ قامت زينب بطي الورقة للنصف، ثم قامت بقص جزء من الورقة (وهي مطوية) لتصبح كما في الصورة، فما هو الشكل الذي سيظهر لها عندما تفرّد الورقة (أي تجعلها غير مطوية)؟</p>	<p>٦٠</p>	
	<p>ب</p>		<p>أ</p>
	<p>د</p>		<p>ج</p>

	<p>٦١ في إحدى اللغات القديمة، تمثل الرموز الأرقام التالية ١، ٢، ٣، ٤، ٥ لكن لا أحد يعلم كل رمز وما يمثله من الأعداد ولكن لدينا:</p> <p> </p> <p>فما هو الرمز الذي يمثل العدد 3؟</p>	<p>٦١</p>	
	<p>ب</p>		<p>أ</p>
	<p>د</p>		<p>ج</p>

٦٢



أي من هذه الخنافس يتوجب عليها الرحيل ليصبح المجموع الكلي للنقاط التي على بقية الخنافس ٢٠ نقطة؟

ذات السبع نقاط

ب

ذات الخمس نقاط

أ

ذات الأربع نقاط


د

ذات الست نقاط

ج

الحل: ذات السبع نقاط

٦٣



ما الشكل الذي يجب أن يحل مكان إشارة الاستفهام ليكمل المجموعة؟



ب



أ



د



ج





٦٤ أي من هذه الأشكال الأربعة الآتية تحقق هذه المقارنة:



أ		ب	
ج		د	

٦٥ أي الأشكال الآتية لا يشكل مكعبًا عند طيه؟

أ		ب	
ج		د	








	<p>وجد سلطان وهو يمر على شاطئ جدة سرطان البحر الذي له قشرة خارجية صلبة مكونة من كربونات الكالسيوم، فما وظيفتها؟</p>	<p>٦٦</p>	
<p>تساعده في الحصول على غذائه</p>	<p>ب</p>	<p>تساعده على التدفئه</p>	<p>أ</p>
<p>تساعده على التنفس</p>	<p>د</p>	<p>تساعده على الحماية من أعدائه</p>	<p>ج</p>
<p>الحل :تساعده على الحماية من أعدائه</p>			

<p>نحن نستخدم النماذج المجسمة كثيرًا في التعلم، فأى الأشكال أدناه يمكننا القول بأنه نموذج؟</p>	<p>٦٧</p>		
	<p>ب</p>		<p>أ</p>
	<p>د</p>		<p>ج</p>



املاً الفراغ بما يناسبه من الاختيارات				٦٨
١	٢٤	:	ساعة	؟
أ	شهر	ب	أسبوع	
ج	يوم	د	دقيقة	
الحل: يوم				

أي الأوضاع الآتية يمكن بواسطته سحب كتلة متساوية من نفس المادة على سطح أملس بأقل قوة؟				٦٩
أ	اتجاه السحب	ب	اتجاه السحب	
ج	اتجاه السحب	د	اتجاه السحب	
اتجاه السحب				

		?		:  		٧٠
		ب				أ
		د				ج
						

أحد الكلمة التي تملأ الفراغ لتعطي علاقة مشابهة لما في داخل الصندوق الأيمن.

	؟	سؤال	:	رمضان	شعبان	٧١
محرم	ب			ذو الحجة		أ
رجب	د			ذو القعدة		ج
الحل: ذو القعدة						



٧٢	مصباح كهرباء	:	نار	؟
أ	حرارة	ب	برودة	
ج	حطب	د	بخار	
الحل :حطب				

٧٣	إنسان	:	سيارة	؟
أ	ماء	ب	فحم	
ج	نبات	د	وقود	
الحل :وقود				

في كل سؤال مما يأتي عبارة تحوي مقدمة غير واقعية تحتها خط، اختر الإجابة التي تكمل العبارة منطقيًا..

٧٤	إذا كانت النار باردة، وكان الصيف حارًا فإن النار.....			
أ	قبس	ب	دفع	
ج	هلاك	د	صقيع	
الحل :صقيع				



٧٥	إذا كان الثلج <u>فحمًا</u> ، وكانت النافذة تستخدم في التهوية، فإن الثلج يستخدم في		
أ	التبريد	ب	التدفئة
ج	الزراعة	د	الطهي
الحل: التدفئة			

٧٦	إذا كان الطحين <u>بترولاً</u> ، وكان الماء يستخدم للحياة، فإن الطحين يستخدم.....		
أ	للبناء	ب	في الدولاب
ج	وقودًا	د	في المنزل
الحل: وقودًا			

٧٧	نبات ثاني أكسيد الكربون بناء ضوئي		
إنسان أكسجين ؟			
أ	هضم	ب	حركة
ج	توقف	د	تنفس
الحل: تنفس			



٧٨	ماء	تسخين	بخار	
	قمح	طحن	؟	
أ		دقيق	ب	ارز
ج		سكر	د	ملح
الحل: دقيق				

٧٩	سمكة	ماء	حياة	
	وردة	عطش	؟	
أ		ذبول	ب	قطف
ج		اقتلاع	د	لون
الحل: ذبول				

**أحدد الاختيار الذي يكمل معنى الجملة إكمالاً صحيحاً.**

٨٠	زرع ياسر بعض الأعشاب الضرورية للطهي، مثل الزنجبيل والريحان والكركم ، وعليه فإن ياسر استخدم الكركم .....			
أ		لإعداد طعامه	ب	لعلف غنمه
ج		لتزيين بيته	د	لغسل ثيابه
الحل: لإعداد طعامه				



٨١	نصح الطبيب محمد بتناول بعض الخضراوات كالخس والخيار والخرشوف وعليه فإن الخرشوف من.....		
أ	الفاكهة	ب	الحيوانات
ج	الأعشاب	د	الخضروات
الحل: الخضروات			

٨٢	زرع ماجد بعض أنواع الورود في حديقته، ومنها: الياسمين، والقرنفل، والنرجس، والأوركيد وعليه فإن الأوركيد يُستخدم لغرض.....		
أ	الأكل	ب	الزينة
ج	التخزين	د	التقديم
الحل : الزينة			

٨٣	ذكر الله سبحانه وتعالى من أسماء النار جهنم، وسقر والحطمة ولظى وعليه فإن لظى تستخدم.....		
أ	للنزهة	ب	للراحة
ج	للعقاب	د	للتواب
الحل : للعقاب			



٨٤	في حصة الخط ذكر لنا المعلم أنواعًا من الخط منها النسخ والرقعة والكوفي والديواني، وعليه فإن الديواني يستخدم في.....		
أ	الأكل	ب	الكتابة
ج	القراءة	د	التلوين
الحل : الكتابة			

### يوم متعب

جلس الأب في الغرفة بعد يوم عمل متعب، وقرأ جريدة، وبعد مرور وقت قصير، اكتشف زياد أن أباه قد نام والجريدة في يده.

٨٥	اكتشف زياد أن أباه قد نام		
أ	بعد مرور وقت قصير	ب	بعد مرور وقت طويل
ج	بعد ثلاث ساعات	د	في الصباح
الحل : بعد مرور وقت قصير			

٨٦	لماذا غلب النوم على الأب؟		
أ	لأنه لم ينام في الليل	ب	لأن البرنامج كان مملًا
ج	لأن الجريدة لم تكن مسلية	د	لأنه عمل عملاً شاقًا
الحل : لأنه عمل عملاً شاقًا			

في أرضنا الطيبة البلدة التي هاجر إليها الرسول - صلى الله عليه وسلم - وعاش فيها هو وصاحباها أبو بكر وعمر رضي الله عنهما وفيها المسجد النبوي وروضته الشريفة، ومنها انتشر الإسلام

٨٧	المقصود بالبلدة في العبارة السابقة	
أ	مكة	ب
ج	الطائف	د
الرياض		
الحل : المدينة المنورة		

لم تتمكن أسرة خالد من الاستمتاع بشاطئ البحر كثيرا بسبب هبوب عاصفة رملية.

٨٨	يفهم من العبارة السابقة أن أسرة خالد	
أ	لم تصل إلى الشاطئ بعد	ب
ج	لم تتمكن من الخروج من المنزل بسبب العاصفة	د
عادت إلى المنزل حالا بعد وصولها إلى الشاطئ		
حرمتها العاصفة من الاستجمام عند البحر		
الحل : حرمتها العاصفة من الاستجمام عند البحر		

٨٩	قال الشاعر: إن الذي ملأ اللغات محاسناً... جعل الجمال وسره في الضاد. المقصود بلغة الضاد .....	
أ	الإنجليزية	ب
ج	العربية	د
الفارسية		
الفرنسية		
الحل : العربية		




عمر حمد ربع عُمر أبيه، وأخوه خالد أكبر منه بـ 3 سنوات، فإذا كان عُمر الأب ٣٦ سنة، أوجد عمر خالد؟	٩٠		
١٥	ب	٩	أ
٢٠	د	١٢	ج
الحل: ١٢			

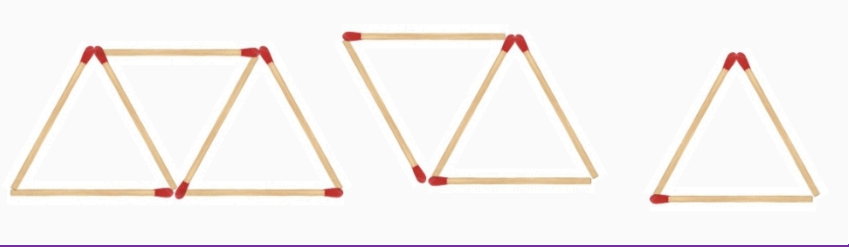
أي الأعداد الآتية ليس أكبر من ٥٤٦١٨؟	٩١		
٤٥٩٧٩	ب	٥٤٨١١	أ
٥٦٤١٠	د	٥٤٧٣٢	ج
الحل: ٤٥٩٧٩			

أي العمليات الآتية يكون ناتجها: إحدى وعشرين ألفاً وثلاث مئة وخمسة؟	٩٢		
١٤١١٧ - ٣٥٤٦٧	ب	٦٧٣٢ - ٢٨٠٣٧	أ
١٠٣٢٤ + ٢١٠٢٦	د	٧٢٧٣ + ١٤١٣٢	ج
الحل: ٦٧٣٢ - ٢٨٠٣٧			







	<p>٩٢ حفظت سارة ٧ سور زيادة عن عدد السور التي حفظتها أروى إذا كان مجموع ما حفظته سارة وأروى معا ٣٧ سورة. فكم سورة حفظت أروى؟</p>	<p>٩٢</p>	
<p>٢٢</p>	<p>ب</p>	<p>٣٠</p>	<p>أ</p>
<p>١٥</p>	<p>د</p>	<p>١٧</p>	<p>ج</p>
<p>الحل: ١٥</p>			

	<p>٩٣ ذهبت إلى المزرعة فرأيت مجموعة من الخرفان، فعددت أرجلها وعيونها، فوجدت أن لها سويا ٢٨ رجلا و ١٤ عينا فما عدد الخرفان التي رأيتها؟</p>	<p>٩٣</p>	
<p>٢١</p>	<p>ب</p>	<p>١٤</p>	<p>أ</p>
<p>٤٢</p>	<p>د</p>	<p>٧</p>	<p>ج</p>
<p>الحل: ٧</p>			

	إذا كانت فترة الحمل للفأر الواحد ١٦ يوماً، فكم تكون فترة الحمل لتوأم من الفئران؟	٩٤	
٣٢	ب	٦٤	أ
٨	د	١٦	ج
الحل: ١٦			

إذا كنا نحتاج 3 أعواد من الكبريت لتشكيل مثلثاً واحداً، و ٥ أعواد لتشكيل مثلثين، و 7 أعواد لتشكيل ٣ مثلثات. فكم عدد الأعواد اللازمة لعمل ٣٧ مثلثاً؟	٩٥		
	أ		
٧٥	ب	٧٣	ج
١١١	د	١٠٨	ج
الحل: ٧٥			

املا الفراغ بما يناسبه من الاختيارات					٩٦
١	١٢	:	شهر	؟	
أ	يوم		ب	سنة	
ج	عقد		د	أسبوع	
الحل: سنة					

املا الفراغ بما يناسبه من الاختيارات					٩٧
١٠٠	٧٥	:		؟	
أ			ب		
ج			د		
					

أوجد الحد التالي في المتسلسلة: ٥، ٥، ١٠، ٣٠، ٣٠، ٦٠، ١٨٠، ١٨٠، ..... ٩٨	
أ ٢٠٠	ب ٢٢٥
ج ٣٦٠	د ٣٠٠
الحل : ٣٦٠	

٩٩	حدد الشكل الذي يملأ الفراغ ليعطي علاقة مشابهة لما في داخل الصندوق الأيمن.
أ	
ج	



كم عدد المئات في العدد ٢٩٥٠٠؟			١٠٠
٩٥٠	ب	٩٥٠٠	أ
٢٩٥	د	٥٠٠	ج
الحل: ٢٩٥			

منصة جهاد